

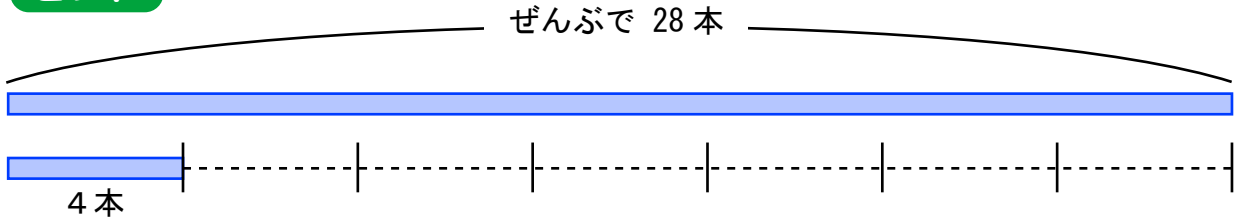
わり算の文章問題

ぶんしょうもんだい

けいさんしき もち ただ こた もと
計算式を用いて正しい答えを求めましょう。

- 1 えんぴつが 28 本あります。筆箱の中に同じ数ずつ入れると
どの筆箱もえんぴつが 4 本入りました。筆箱は何こありましたか？

ヒント

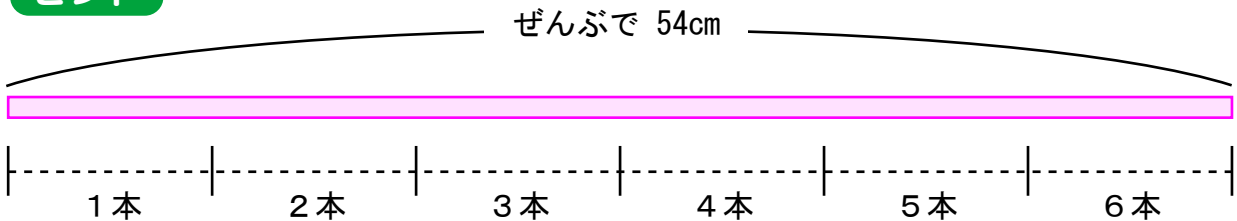


式 () ÷ () = ()

答え () こ

- 2 54cm のリボンがあります。同じ 6 本の長さに分けると
1 本あたりの長さは何 cm ですか？

ヒント

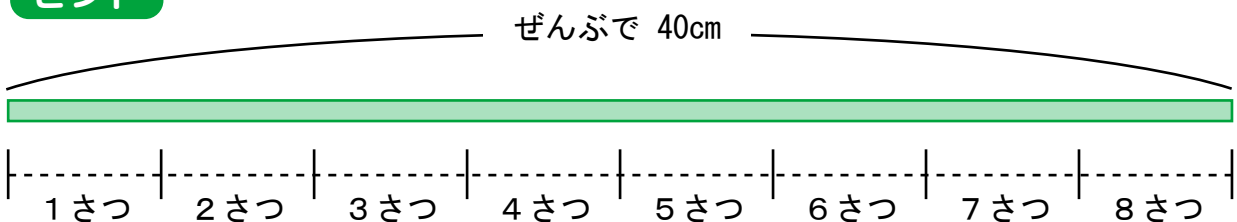


式 () ÷ () = ()

答え () cm

- 3 本が 8 さつあります。横はば 40 cm の本だなにピッタリ入りました。
本 1 さつのあつみは何 cm ですか？

ヒント



式 () ÷ () = ()

答え () cm