

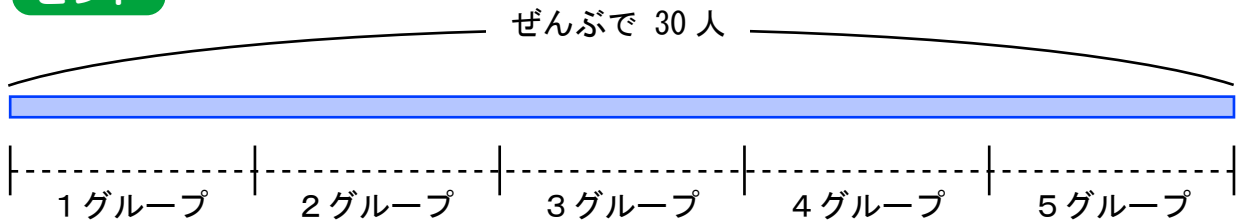
わり算の文章問題

ぶんしょうもんだい

けいさんしき もち ただ こた もと
計算式を用いて正しい答えを求めましょう。

- 1 クラスみんなで30人います。5つのグループに分けると
1グループあたり何人になりますか？

ヒント

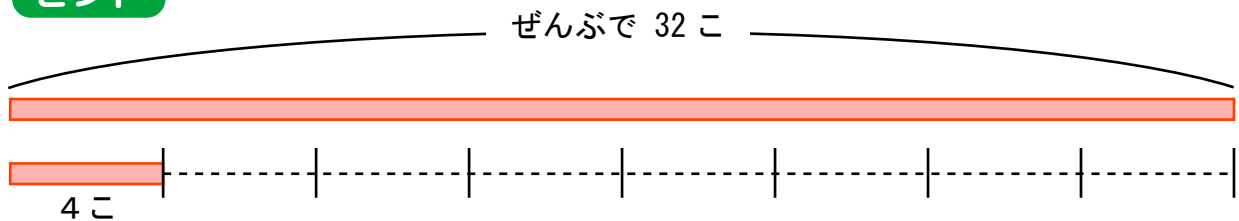


式 () ÷ () = ()

答え () 人

- 2 いちごが32こあります。4こずつお皿にのせると
お皿は何まいひつようですか？

ヒント

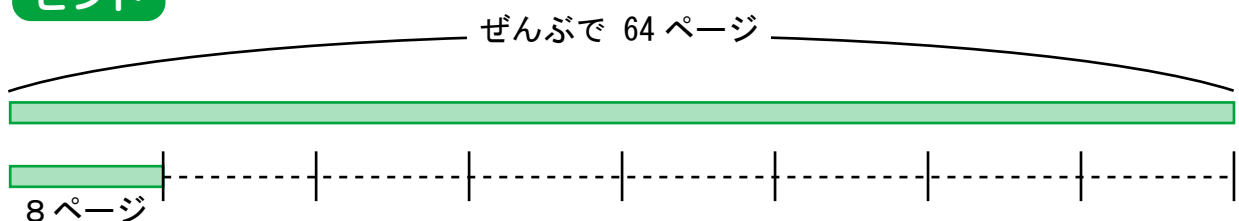


式 () ÷ () = ()

答え () まい

- 3 64ページの本があります。毎日8ページずつ読むと、
読み終わるのに何日かかりますか？

ヒント



式 () ÷ () = ()

答え () 日