

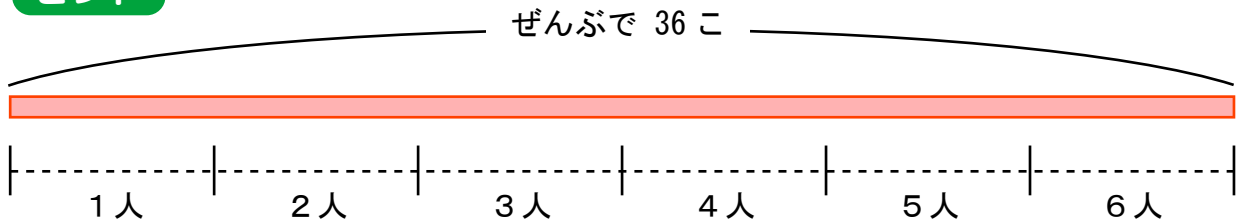
# わり算の文章問題

ぶんしょうもんだい

けいさんしき もち ただ こた もと  
計算式を用いて正しい答えを求めましょう。

- 1 りんごが 36 こあります。6 人で同じ数ずつ分けると  
一人あたり何このりんごがもらえますか？

ヒント

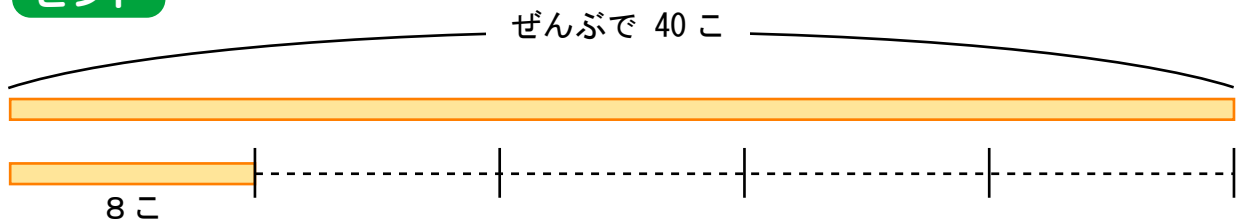


式 ( ) ÷ ( ) = ( )

答え ( ) こ

- 2 みかんが 40 こあります。8 こずつに分けると  
何人にくばる事ができますか？

ヒント

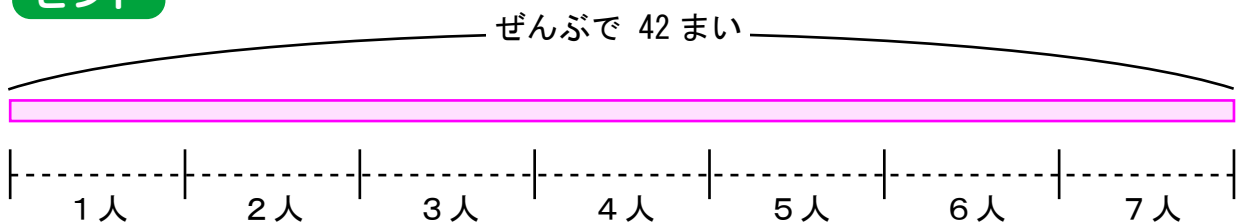


式 ( ) ÷ ( ) = ( )

答え ( ) 人

- 3 おりがみが 42 まいあります。7 人で同じ数ずつ分けると  
一人あたり何まいのおりがみがもらえますか？

ヒント



式 ( ) ÷ ( ) = ( )

答え ( ) まい