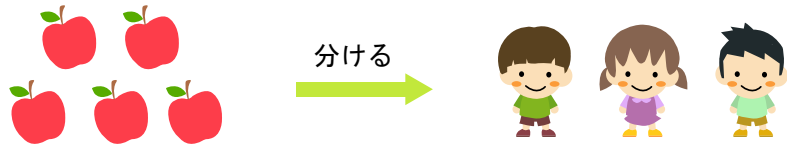


あまりのある割り算

次の () に入る 数字を 答えましょう。

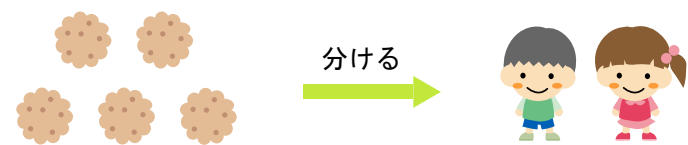
- 1 リンゴを 同じ数ずつ 分けると
一人あたり 何この リンゴが もらえますか？
また、何この リンゴが ありますか？



しき () \div () = あ ま り
● ● ●

答え 一人あたり () ずつ もらえる。() こ あまる。

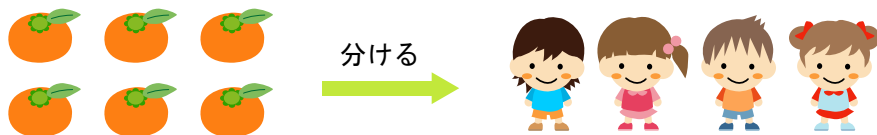
- 3 ビスケットを 同じ数ずつ 分けると
一人あたり 何まいの ビスケットが もらえますか？
また、何まいの ビスケットが ありますか？



しき () \div () = あ ま り
● ● ●

答え 一人あたり () ずつ もらえる。() こ あまる。

- 2 みかんを 同じ数ずつ 分けると
一人あたり 何この みかんが もらえますか？
また、何この みかんが ありますか？



しき () \div () = あ ま り
● ● ●

答え 一人あたり () ずつ もらえる。() こ あまる。

- 4 あめを 同じ数ずつ 分けると
一人あたり 何この あめが もらえますか？
また、何この あめが ありますか？



しき () \div () = あ ま り
● ● ●

答え 一人あたり () ずつ もらえる。() こ あまる。