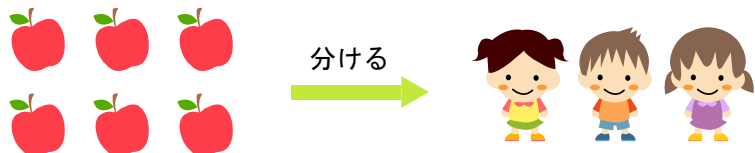


# わり算を学ぼう

( ) の中に答えを書きましょう。

- 1 リンゴを 同じ数ずつ 分けると  
一人あたり 何この リンゴが もらえますか？

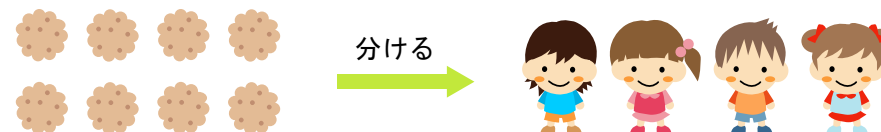


全体の数 ( )  $\overset{\text{わる}}{\div}$  分ける数 ( ) =

しき

答え 一人あたり ( ) ずつ もらえる。

- 3 ビスケットを 同じ数ずつ 分けると  
一人あたり 何まいの ビスケットが もらえますか？

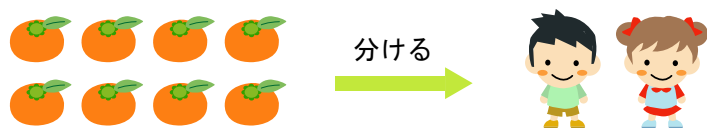


全体の数 ( )  $\overset{\text{わる}}{\div}$  分ける数 ( ) =

しき

答え 一人あたり ( ) ずつ もらえる。

- 2 みかんを 同じ数ずつ 分けると  
一人あたり 何この みかんが もらえますか？



全体の数 ( )  $\overset{\text{わる}}{\div}$  分ける数 ( ) =

しき

答え 一人あたり ( ) ずつ もらえる。

- 4 あめを 同じ数ずつ 分けると  
一人あたり 何この あめが もらえますか？



全体の数 ( )  $\overset{\text{わる}}{\div}$  分ける数 ( ) =

しき

答え 一人あたり ( ) ずつ もらえる。