



もも が全部で 15 こ あります。



問題1

15このももを5人で分けます。  
1人あたり何こもらえますか？




式

( ) ÷ ( ) = ( )

答え

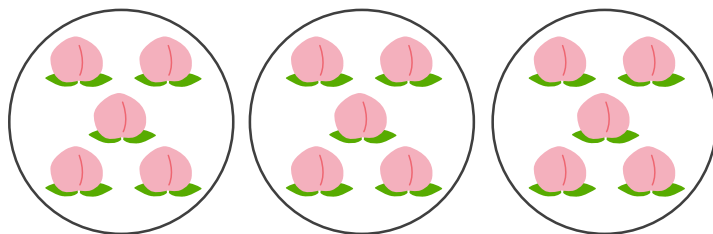
一人あたり ( ) もらえる。

図で書いてみよう



問題2

15このももを5こずつ分けます。  
何人に配ることが出来ますか？



式

( ) ÷ ( ) = ( )

答え

( ) に配ることができる。

図で書いてみよう

