


レモンが全部で 15 こ あります。



問題1

15 この レモン を 3 人で 分けます。  
1 人あたり 何こ もらえますか？




式

$$(\quad) \div (\quad) = (\quad)$$

答え


一人あたり ( ) もらえる。

図で書いてみよう



問題2

15 この レモン を 3 こずつ 分けます。  
何人に 配ることが できますか？



式

$$(\quad) \div (\quad) = (\quad)$$

答え

( ) に配ることができる。

図で書いてみよう

