



みかんが全部で 12 こ あります。



問題 1

12 この みかん を 4 人で 分けます。
1 人あたり 何こ もらえますか？




式

$$(\quad) \div (\quad) = (\quad)$$

答え


一人あたり () もらえる。

図で書いてみよう



問題 2

12 この みかん を 4 こずつ 分けます。
何人に 配ることが できますか？



式

$$(\quad) \div (\quad) = (\quad)$$

答え

() に配ることができる。

図で書いてみよう

