



りんごが全部で 12 こ あります。



問題 1

12 この りんご を 3 人で 分けます。  
1 人あたり 何こ もらえますか？




式

$$( \quad ) \div ( \quad ) = ( \quad )$$

答え


一人あたり ( ) もらえる。

図で書いてみよう



問題 2

12 この りんご を 3 こずつ 分けます。  
何人に 配ることが できますか？



式

$$( \quad ) \div ( \quad ) = ( \quad )$$

答え

( ) に配ることができる。

図で書いてみよう

