



いちごが全部で 9 こ あります。



問題1

9このいちごを 3人で分けます。
1人あたり 何こ もらえますか？




式

$$(\quad \text{こ}) \div (\quad \text{人}) = (\quad \text{こ})$$

答え


一人あたり () もらえる。

図で書くと・・・



問題2

9このいちごを 3こずつ分けます。
何人に 配ることが できますか？




式

$$(\quad \text{こ}) \div (\quad \text{こ}) = (\quad \text{人})$$

答え

() 人に配ることができる。

図で書くと・・・



どちらも同じ図になるけど、

答えの出し方・式の作り方がちがうよ！