



りんごが全部で 6 こ あります。



問題 1

6このりんごを 2人で分けます。
1人あたり 何こ もらえますか？




式

() ÷ () = ()

答え

一人あたり () もらえる。


図で書くと・・・



全体の数 (りんごの数) から
一人分の数を求めるわり算を

問題 2

6このりんごを 2こずつ分けます。
何人に 配ることが できますか？



式

() ÷ () = ()

答え

() に配ることができる。

図で書くと・・・



全体の数 (りんごの数) から
何人分の数を求めるわり算を