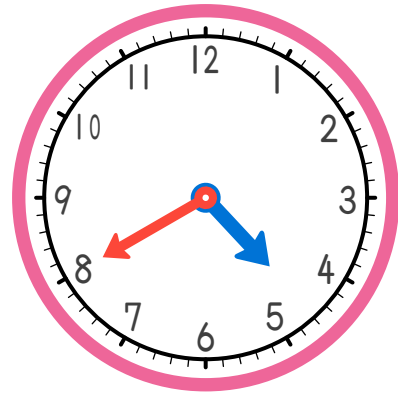


1 9時まで あと なん分？

こたえ _____ 分



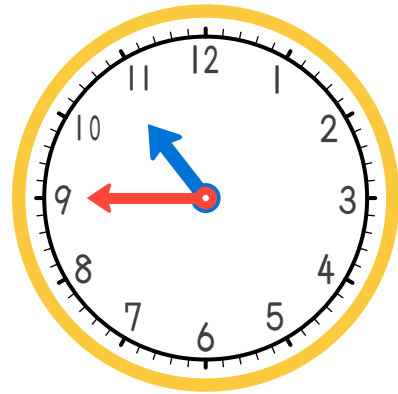
2 5時まで あと なん分？

こたえ _____ 分



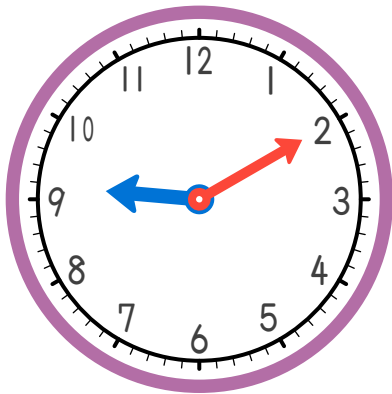
3 3時まで あと なん分？

こたえ _____ 分



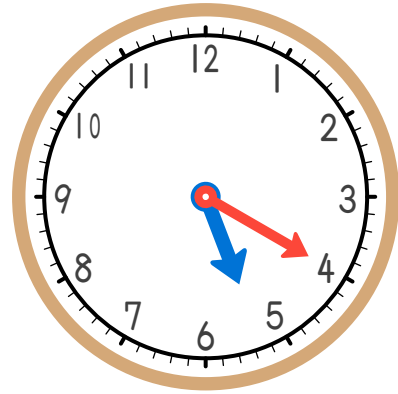
4 11時まで あと なん分？

こたえ _____ 分



5 10時まで あと なん分？

こたえ _____ 分



6 6時まで あと なん分？

こたえ _____ 分