


さんかくけい
三角形 と しかくけい
四角形


() の中に 正しい ^{かず} 数を かきましょう。

せいほうけい
 正方形



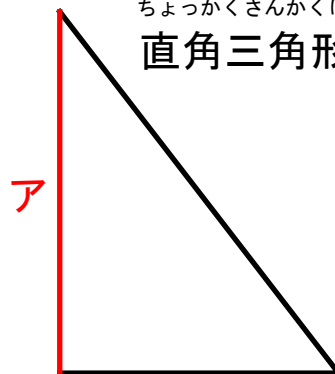
ア 辺の数は () 本
 直角の数は () こ
 ちょう点の数は () こ
 アと同じ長さの辺は () 本

ちょうほうけい
 長方形



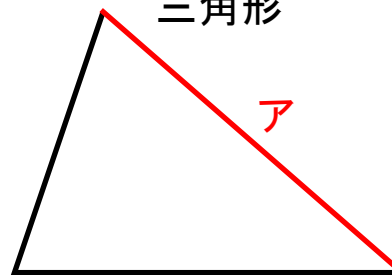
ア 辺の数は () 本
 直角の数は () こ
 ちょう点の数は () こ
 アと同じ長さの辺は () 本

ちよっかくさんかくけい
 直角三角形



ア 辺の数は () 本
 直角の数は () こ
 ちょう点の数は () こ
 アと同じ長さの辺は () 本

さんかくけい
 三角形



ア 辺の数は () 本
 直角の数は () こ
 ちょう点の数は () こ
 アと同じ長さの辺は () 本