
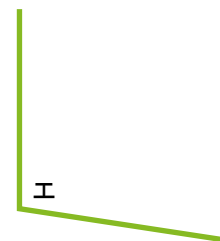


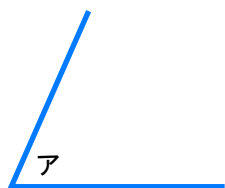
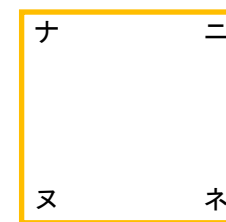
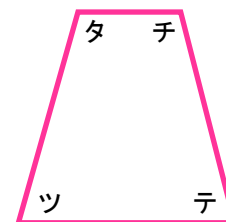
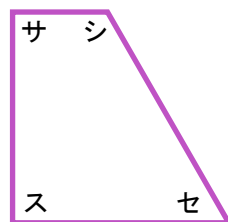
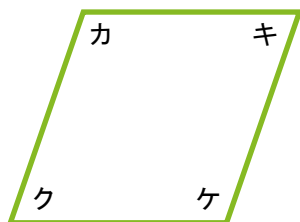
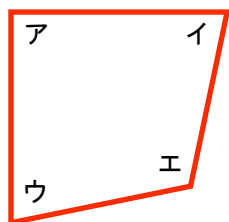


さんかくけい
三角形としかくけい
四角形

1 つぎの ^{へん} 辺の ア~オの 中で かど が ^{ちよっかく} 直角に なっている もの すべてに ○ を つけましょう。

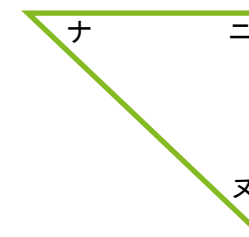
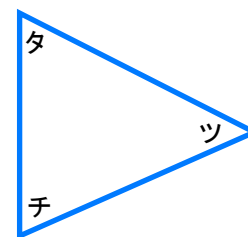
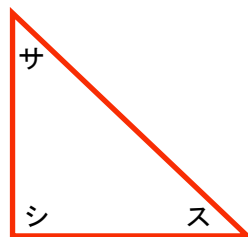
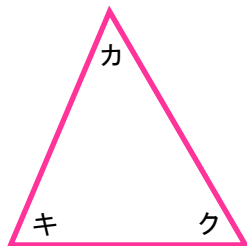
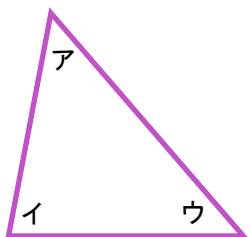


2 つぎの 四角形の ア~ネの 中で かど が 直角に なっている ところ すべてに ○ を つけましょう。



(ア・イ・ウ・エ) (カ・キ・ク・ケ) (サ・シ・ス・セ) (タ・チ・ツ・テ) (ナ・ニ・ヌ・ネ)

3 つぎの 三角形の ア~ヌの 中で かど が 直角に なっている ところ すべてに ○ を つけましょう。



(ア・イ・ウ)

(カ・キ・ク)

(サ・シ・ス)

(タ・チ・ツ)

(ナ・ニ・ヌ)