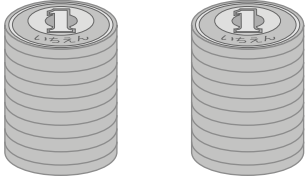



きん 金 ^{おな} が ^{おな} 同じもの ^{せん} を 線 で むすびましょう。



1円玉が20まい




50円玉が4まい



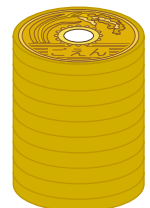
1円玉が50まい



10円玉が2まい



10円玉が20まい



5円玉が10まい