



きん おな せん
金がく が 同じものを 線 で むすびましょう。



1円玉が50まい



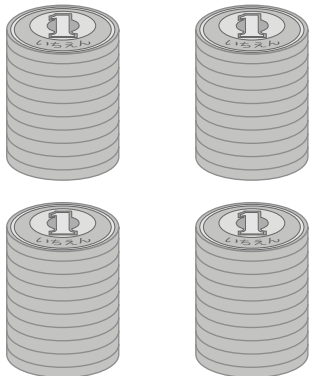
10円玉が2まいと
5円玉が4まい



1円玉が60まい



10円玉が4まいと
5円玉が2まい



1円玉が40まい



10円玉が3まいと
5円玉が6まい