


のり は いくつ

かぼちゃを5こ食べました。

のりはいくつ？



8こ


しき

こたえ

こ

はとが7わとんでいきました。

のりはいくつ？



9わ


しき

こたえ

わ

なすびを2ほん食べました。

のりはいくつ？



8ほん

しき

こたえ

ほん