


のり は いくつ

いちご を 7こ たべました。

のこりは いくつ？




しき

こたえ

こ

きゅうり を 5ほん たべました。

のこりは いくつ？




しき

こたえ

ほん

ごりら が 4とう でかけました。

のこりは いくつ？



しき

こたえ

とう