


ペリカンが 5わ とんでいきました。

のこりはいくつ？



6わ

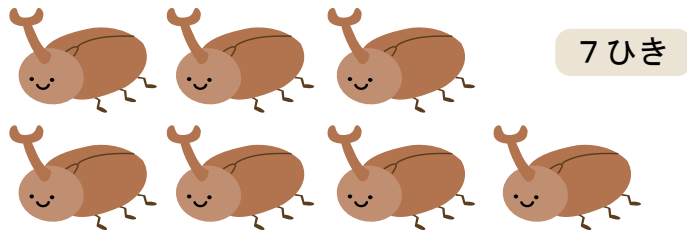
しき

こたえ

わ

かぶとむしが 2ひきにげました。

のこりはいくつ？



7ひき


しき

こたえ

ひき

ほしが 3こ きました。

のこりはいくつ？



10こ

しき

こたえ

こ