


のり は いくつ

かめ が 2ひき およいでいきました。

のこり は いくつ？



8ひき

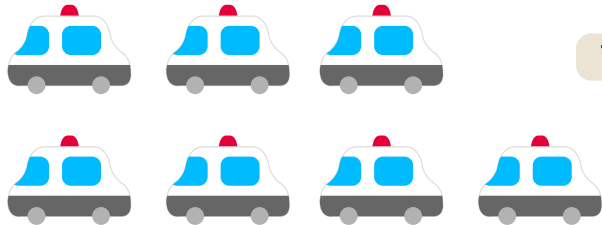
しき

こたえ

ひき

ぱとかー が 4だい しゅつどう しました。

のこり は いくつ？



7だい


しき

こたえ

だい

ねぎ を 3ほん つかいました。

のこり は いくつ？



7ほん

しき

こたえ

ほん