


のり は いくつ

みかん を 4 こたべました。

のこりは いくつ？



6こ


しき

こたえ

こ

ざりがに を 3 びき つかまえました。

のこりは いくつ？



8びき


しき

こたえ

ひき

だいこん を 5 ほん つかいました。

のこりは いくつ？



7ほん

しき

こたえ

ほん