


のり は いくつ

ぞう が 5とう でかけました。

のこり は なんとか？




しき

こたえ

えんぴつ を 6ぽん つかいました。

のこり は なんぽん？




しき

こたえ

てんとうむし が 9ひき とんでいきました。

のこり は なんびき？



しき

こたえ
