

1 つぎのけいさんをときましょう。たにいもわすれずにかきましょう。

$$2\text{ cm } 3\text{ mm} + 3\text{ cm } 6\text{ mm} = (\underline{\hspace{2cm}})$$


$$1\text{ cm } 7\text{ mm} + 6\text{ cm } 2\text{ mm} = (\underline{\hspace{2cm}})$$

$$4\text{ cm } 6\text{ mm} + 2\text{ cm } 1\text{ mm} = (\underline{\hspace{2cm}})$$

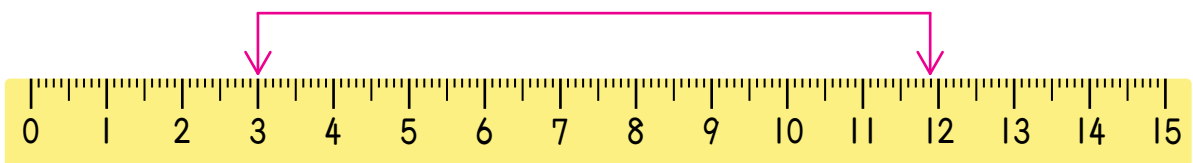
$$5\text{ cm } 2\text{ mm} + 4\text{ cm } 5\text{ mm} = (\underline{\hspace{2cm}})$$

2 ものさしの<sup>なが</sup>長さがいくつをさしているか


それぞれ cm と mm でこたえましょう。



(          cm ) または (          mm )



(          cm ) または (          mm )



(          cm ) または (          mm )