

1 つぎのけいさんをときましょう。たにいもわすれずにかきましょう。

$$1 \text{ cm} + 3 \text{ cm} = (\underline{\hspace{2cm}})$$

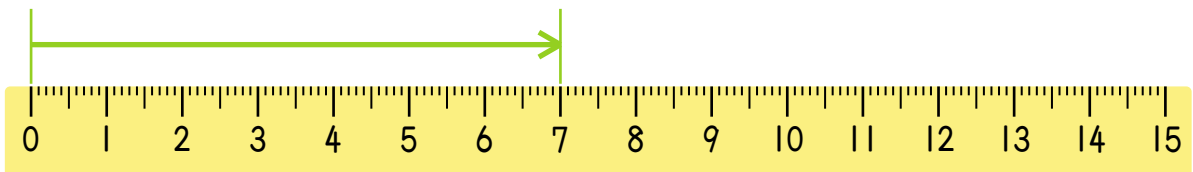
$$4 \text{ mm} + 2 \text{ mm} = (\underline{\hspace{2cm}})$$

$$3 \text{ cm} + 6 \text{ cm} = (\underline{\hspace{2cm}})$$

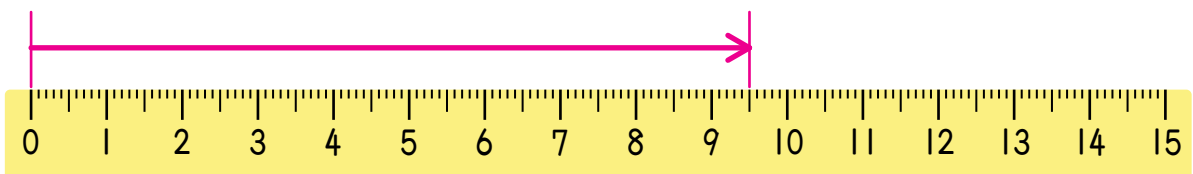
$$5 \text{ mm} + 7 \text{ mm} = (\underline{\hspace{2cm}})$$

2 ものさしの^{なが}長さがいくつをさしているか

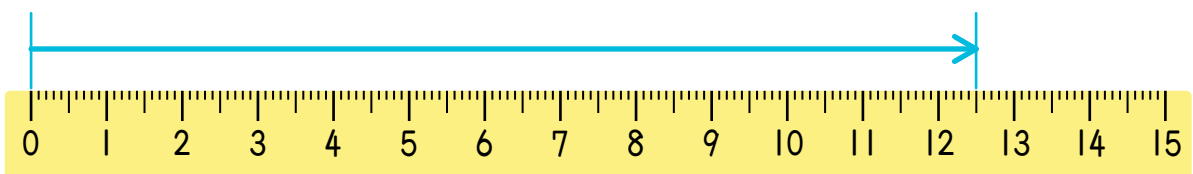
それぞれ cm と mm でこたえましょう。



(cm) または (mm)



(cm) または (mm)



(cm) または (mm)