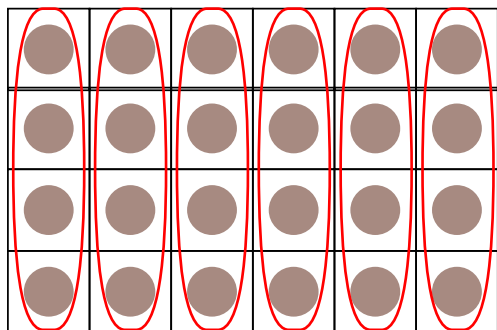


九九のきまり

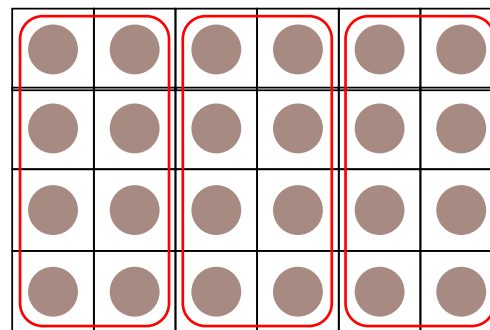
はこの中のチョコレートをいろいろなしきで計算しましょう。

けいさん



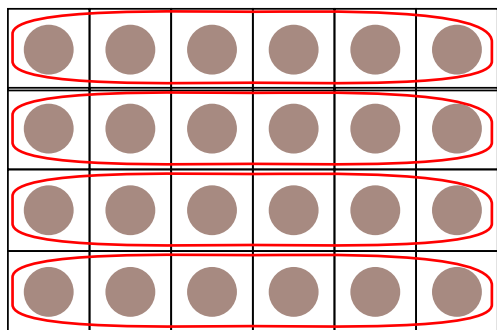
1かたまりの
チョコレートが
4つとして
計算する

$$4 \times (\quad) = 24$$



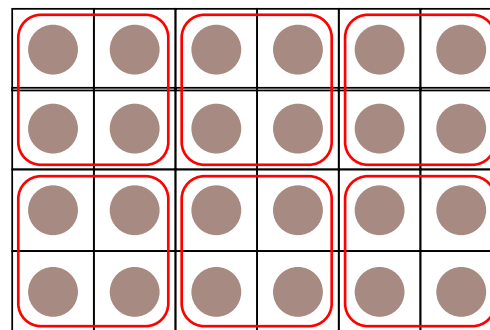
1かたまりの
チョコレートが
8つとして
計算する

$$8 \times (\quad) = 24$$



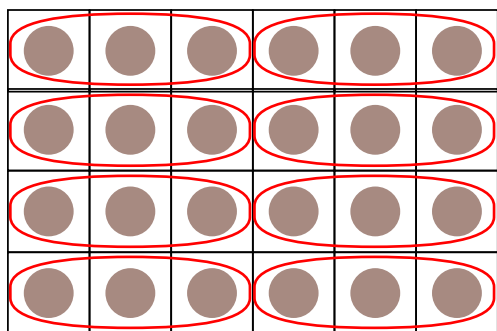
1かたまりの
チョコレートが
6つとして
計算する

$$6 \times (\quad) = 24$$



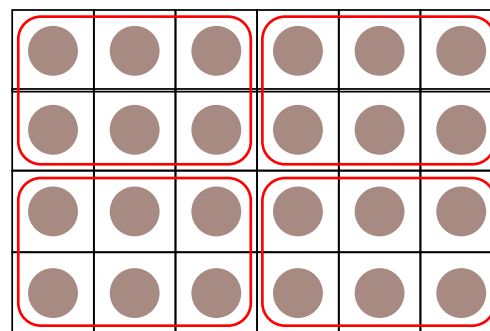
1かたまりの
チョコレートが
4つとして
計算する

$$4 \times (\quad) = 24$$



1かたまりの
チョコレートが
3つとして
計算する

$$3 \times (\quad) = 24$$



1かたまりの
チョコレートが
6つとして
計算する

$$6 \times (\quad) = 24$$