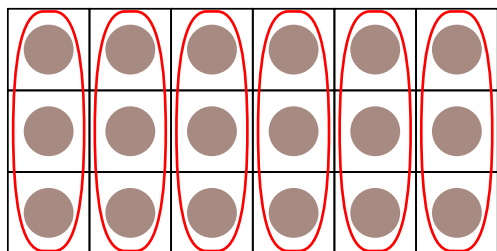


九九のきまり

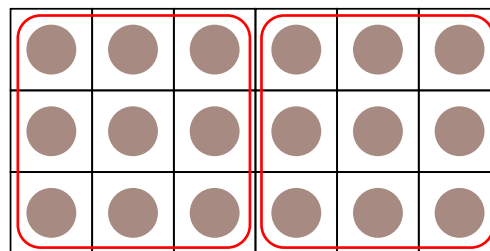
はこの中のチョコレートをいろいろなしきで計算しましょう。

けいさん



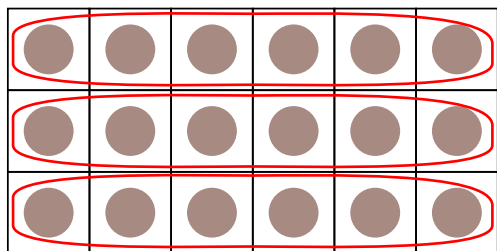
1かたまりの
チョコレートが
3つとして
計算する

$$3 \times (\quad) = 18$$



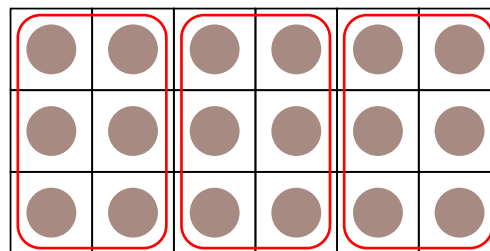
1かたまりの
チョコレートが
9つとして
計算する

$$9 \times (\quad) = 18$$



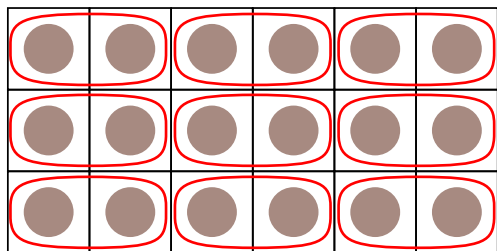
1かたまりの
チョコレートが
6つとして
計算する

$$6 \times (\quad) = 18$$



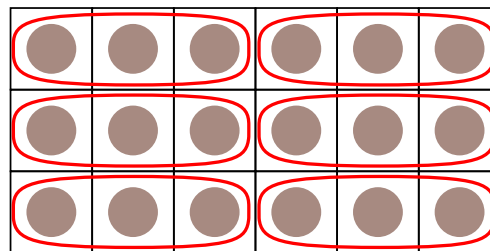
1かたまりの
チョコレートが
6つとして
計算する

$$6 \times (\quad) = 18$$



1かたまりの
チョコレートが
2つとして
計算する

$$2 \times (\quad) = 18$$



1かたまりの
チョコレートが
3つとして
計算する

$$3 \times (\quad) = 18$$