

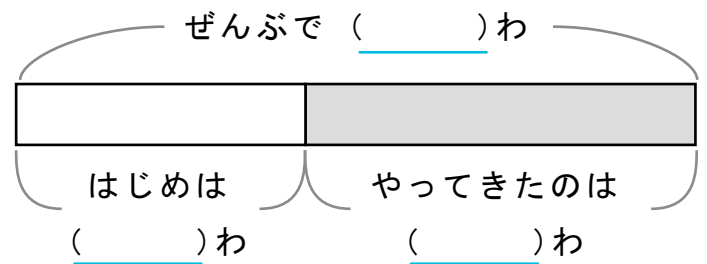
かくれた ^{かず}数はいくつ

しきをつかって ことえ を もとめましょう。

また、() に すう字 を かいて ず を かんせい させましょう。

- 1 ハトが 27わ いました。そこへ ほかの ハトが やってきて 63わ になりました。なんわ やってききましたか。

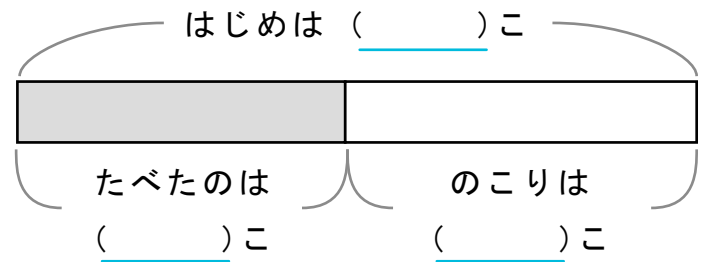
しき



ことえ

- 2 りんごが 43こ ありました。いくつ か たべて のこりが 25こ になりました。なんこ たべましたか。

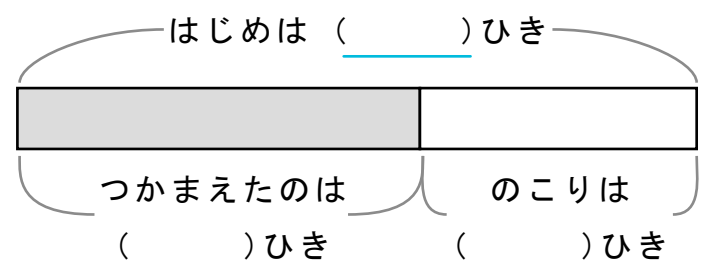
しき



ことえ

- 3 おたまじゃくしを 37ひき つかまえると のこり 25ひき になりました。おたまじゃくし は はじめに なんひき いましたか。

しき



ことえ
