

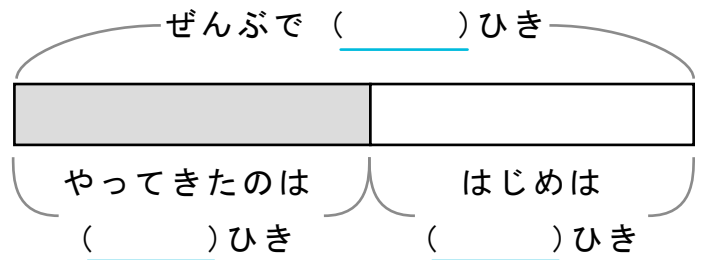
かくれた ^{かず} 数はいくつ

しきをつかってこたえをもとめましょう。

また、()にすう字をかいてずをかんせいさせましょう。

- 1 カメが28ひきいました。そこへほかのカメがやってきて65ひきになりました。なんひきやってきましたか。

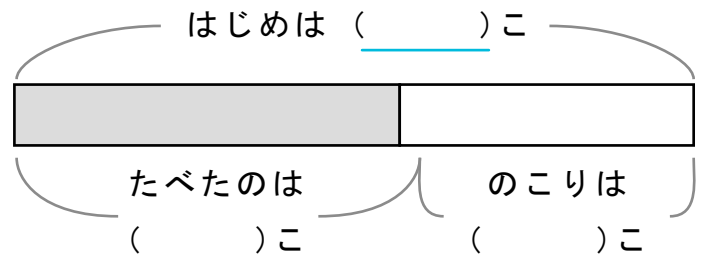
しき



こたえ

- 2 たこやきが50こありました。いくつかたべてのこりが19こになりました。なんこたべましたか。

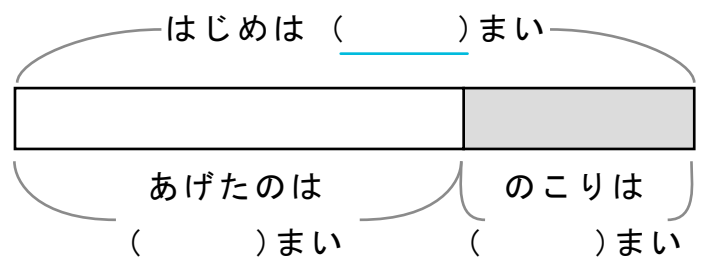
しき



こたえ

- 3 ともだちにおりがみを46まいあげるとのこり18まいになりました。はじめになんまいありましたか。

しき



こたえ
