

# かくれた<sup>かず</sup>数はいくつ

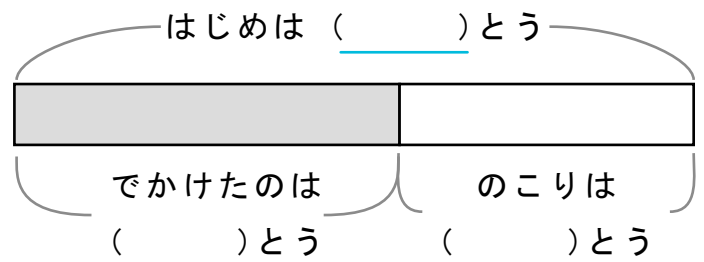
しきをつかってこたえをもとめましょう。

また、( )にすう字をかいてずをかんせいさせましょう。

- 1 ライオンが36とういました。しばらくして19とうが出かけました。  
のこっているのはなんとうですか。

しき

\_\_\_\_\_



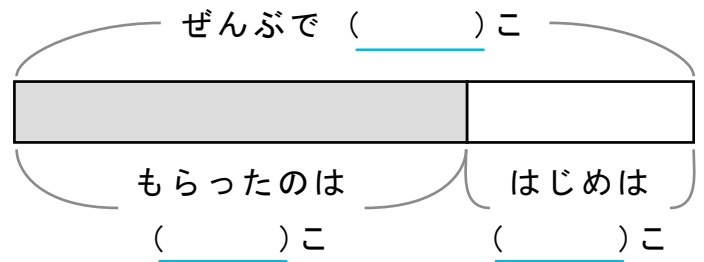
こたえ

\_\_\_\_\_

- 2 りんごを33こもらうと52こになりました。  
はじめはなんこありましたか。

しき

\_\_\_\_\_



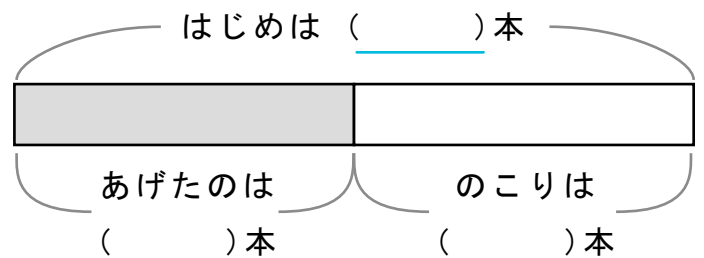
こたえ

\_\_\_\_\_

- 3 バナナをともだちに26本くばるとのこりは28本になりました。  
はじめになん本ありましたか。

しき

\_\_\_\_\_



こたえ

\_\_\_\_\_