

# かくれた <sup>かず</sup>数はいくつ

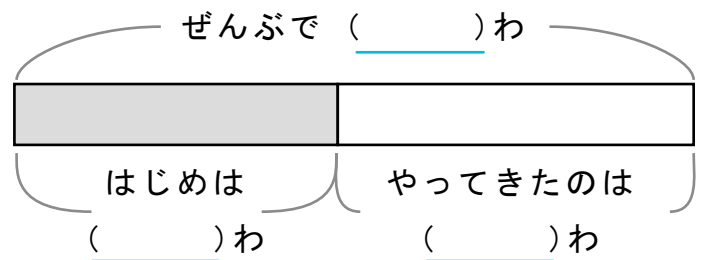
しきをつかってこたえをもとめましょう。

また、( )にすう字をかいてずをかんせいさせましょう。

- 1 ツバメが21わいました。そこへほかのツバメがやってきて45わになりました。なんわやってきましたか。

しき

\_\_\_\_\_



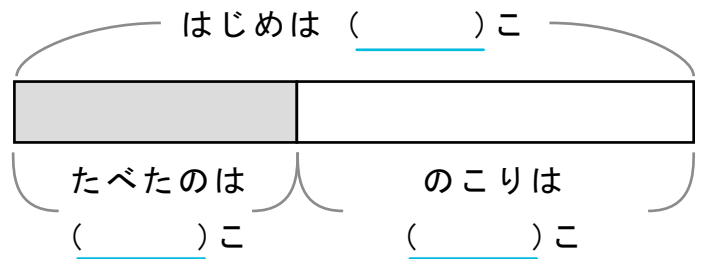
こたえ

\_\_\_\_\_

- 2 イチゴが50こありました。いくつかたべてのこりが34こになりました。なんこたべましたか。

しき

\_\_\_\_\_



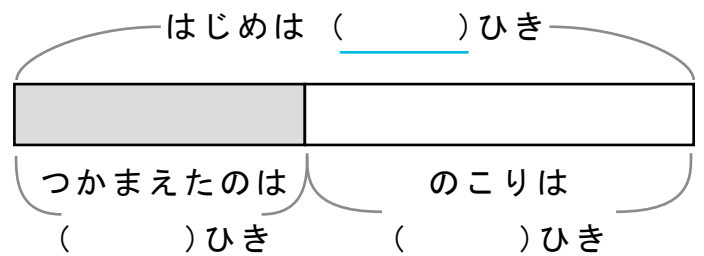
こたえ

\_\_\_\_\_

- 3 さかなを17ひきつかまえるとのこり31ひきになりました。さかなははじめになんひきいましたか。

しき

\_\_\_\_\_



こたえ

\_\_\_\_\_