

# かくれた <sup>かず</sup> 数はいくつ

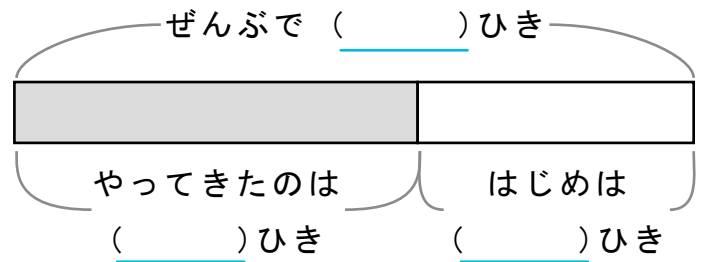
しきをつかってこたえをもとめましょう。

また、( )にすう字をかいてずをかんせいさせましょう。

- 1 メダカが47ひきやってきてぜんぶで64ひきになりました。  
はじめにメダカはなんびきいましたか。

しき

\_\_\_\_\_



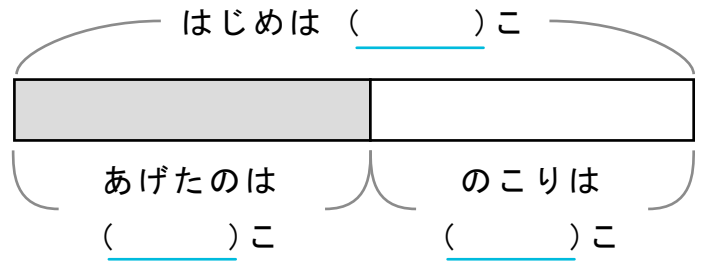
こたえ

\_\_\_\_\_

- 2 ドーナツが53こありました。ともだちにいくつかあげて  
24このこりました。ともだちになんこあげたでしょうか。

しき

\_\_\_\_\_



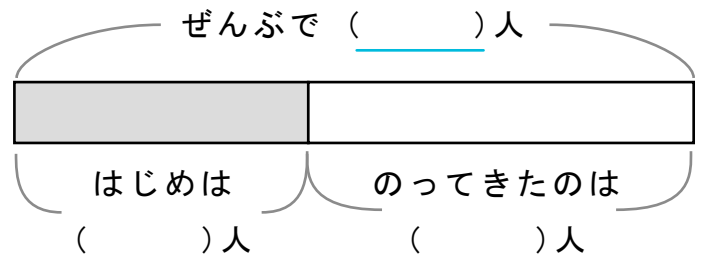
こたえ

\_\_\_\_\_

- 3 バスに16人でのっているとあとから38人のってきました。  
いまなん人がバスにのっていますか。

しき

\_\_\_\_\_



こたえ

\_\_\_\_\_