

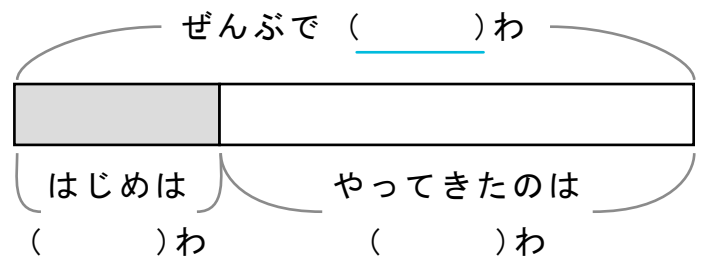
かくれた ^{かず} 数はいくつ

しきをつかって ことえ を もとめましょう。

また、() に すう字 を かいて ず を かんせい させましょう。

- 1 カラス が 3わ いました。そこへ ほかの カラスが やってきて 10わ になりました。なんわ やってききましたか。

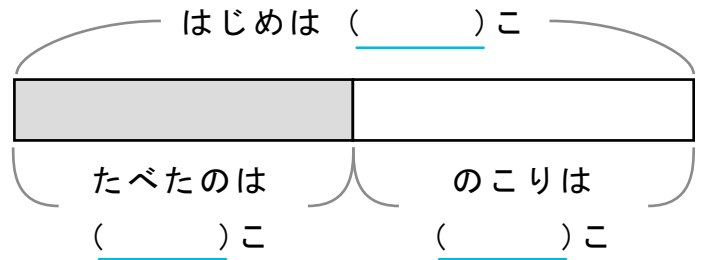
しき



ことえ

- 2 もも が 10こ ありました。いくつ か たべて のこり が 5こ になりました。なんこ たべましたか。

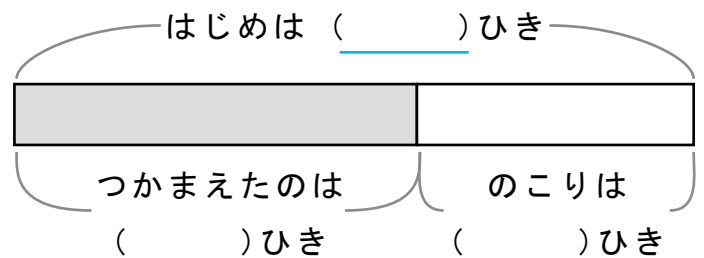
しき



ことえ

- 3 カエル を 6ひき つかまえると のこり 4ひき になりました。カエル は はじめに なんひき いましたか。

しき



ことえ
