

かくれた ^{かず} 数はいくつ

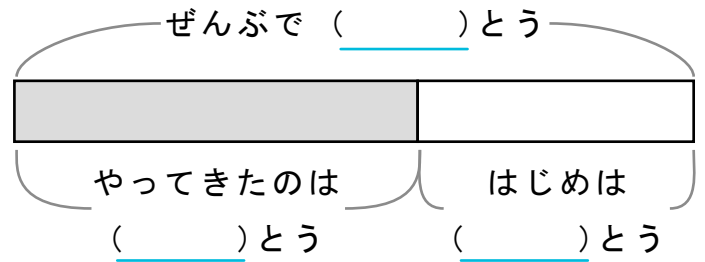
しきをつかってこたえをもとめましょう。

また、()にすう字をかいてずをかんせいさせましょう。

1 うまが6とうやってきてぜんぶで10とうになりました。

はじめにうまはなんとういましたか。

しき

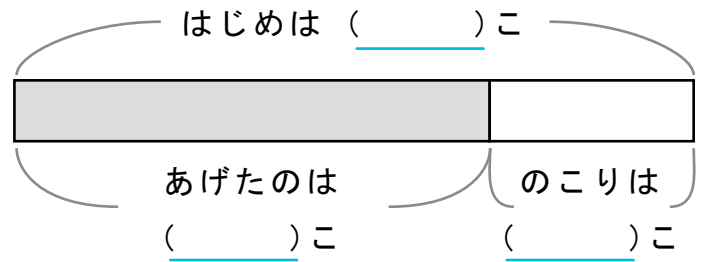


こたえ

2 ケーキが10こありました。ともだちにいくつかあげて

3このこりました。ともだちになんこあげたでしょうか。

しき

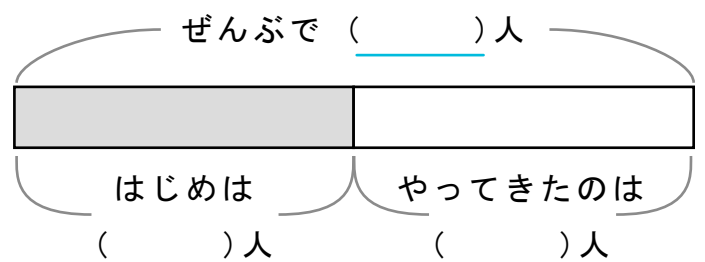


こたえ

3 こうえんで5人であそんでいるとあとから5人やってきました。

いまなん人がこうえんにいますか。

しき



こたえ
