

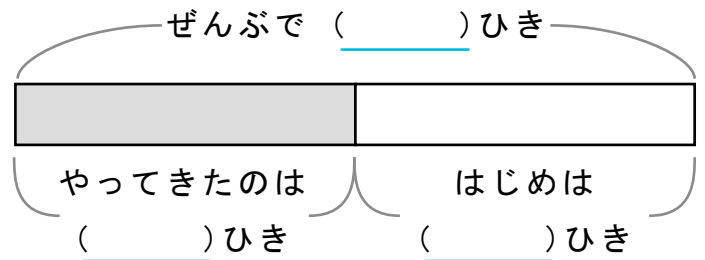
かくれた ^{かず} 数はいくつ

しきをつかって ことえ を もとめましょう。

また、() に すう字 を かいて ず を かんせい させましょう。

- 1 ザリガニが 5ひき いました。そこへ ほかの ザリガニが やってきて 10ひき になりました。なんひき やってききましたか。

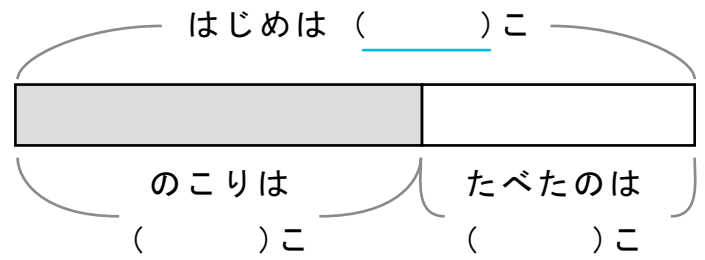
しき



ことえ

- 2 レモンが 10こ ありました。いくつ か たべて のこりが 6こ になりました。なんこ たべましたか。

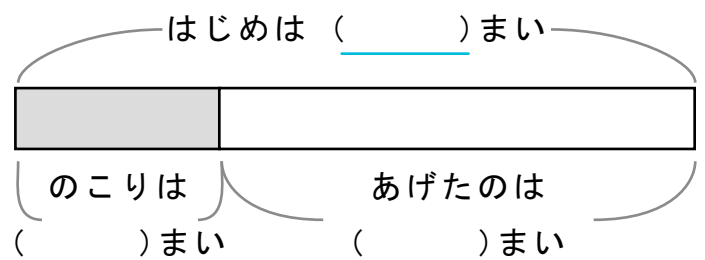
しき



ことえ

- 3 ともだち におりがみ を 7まい あげると のこり 3まい になりました。はじめに なんまい ありましたか。

しき



ことえ
