

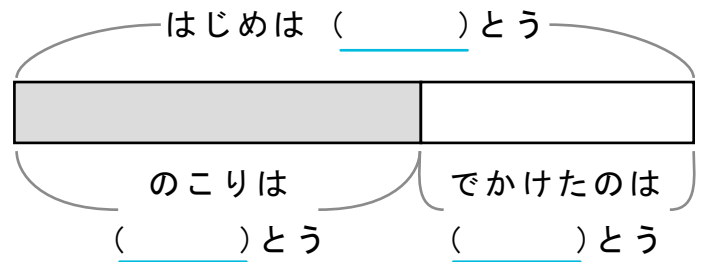
かくれた ^{かず} 数はいくつ

しきをつかって こたえ を もとめましょう。

また、() に すう字 を かいて ず を かんせい させましょう。

- 1 うま が 10とう いました。しばらくして 4とう が 出かけました。
のこっているのは なんと う ですか。

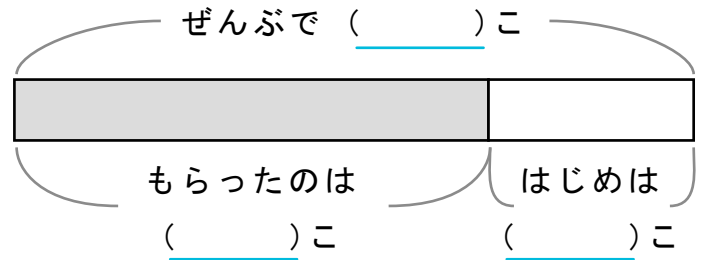
しき



こたえ

- 2 りんご を 7こ もらうと 10こ になりました。
はじめは なんこ ありましたか。

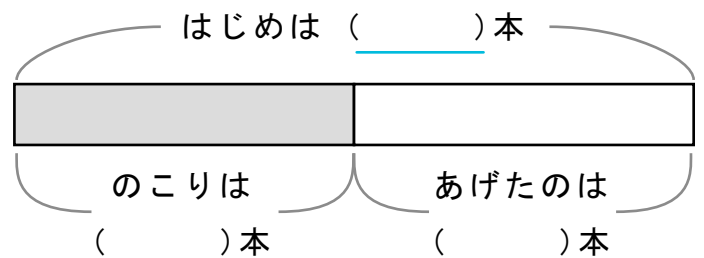
しき



こたえ

- 3 バナナ を ともだち に 5本 あげると のこりは 5本 になりました。
はじめに なん本 ありましたか。

しき



こたえ
