

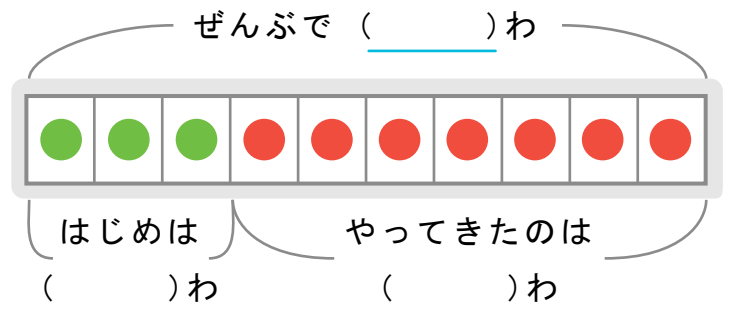
かくれた ^{かず}数はいくつ

しきをつかって ことえ を もとめましょう。

また、() に すう字 を かいて ず を かんせい させましょう。

- 1 ツバメ が 3わ いました。そこへ ほかの ツバメが やってきて 10わ になりました。なんわ やってきましたか。

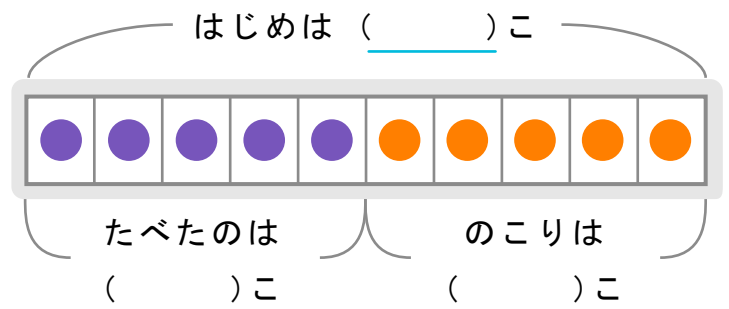
しき



ことえ

- 2 イチゴ が 10こ ありました。いくつ か たべて のこりが 5こ になりました。なんこ たべましたか。

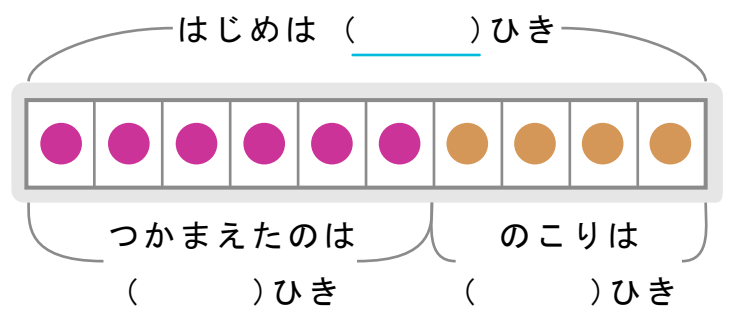
しき



ことえ

- 3 カニ を 6ひき つかまえると のこり 4ひき になりました。カニ は はじめに なんひき いましたか。

しき



ことえ
