

かくれた ^{かず}数はいくつ

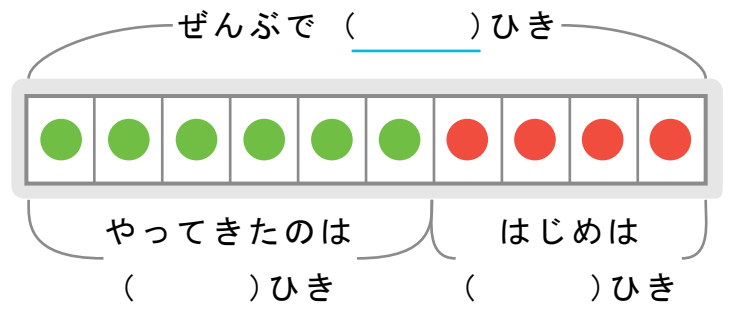
しきをつかってこたえをもとめましょう。

また、()にすう字をかいてずをかんせいさせましょう。

1 メダカが6ひきやってきてぜんぶで10ひきになりました。

はじめにメダカはなんびきいましたか。

しき

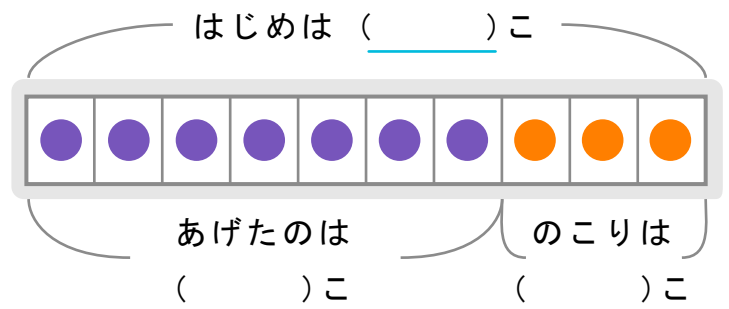


こたえ

2 ドーナツが10こありました。ともだちにいくつかあげて

3このこりました。ともだちになんこあげたでしょうか。

しき

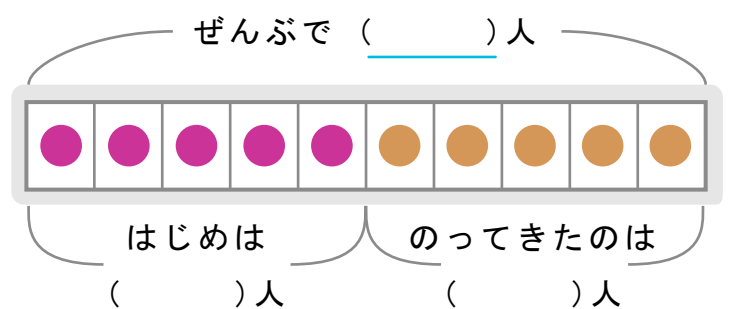


こたえ

3 バスに5人でのっているとあとから5人のってきました。

いまなん人がバスにのっていますか。

しき



こたえ
