

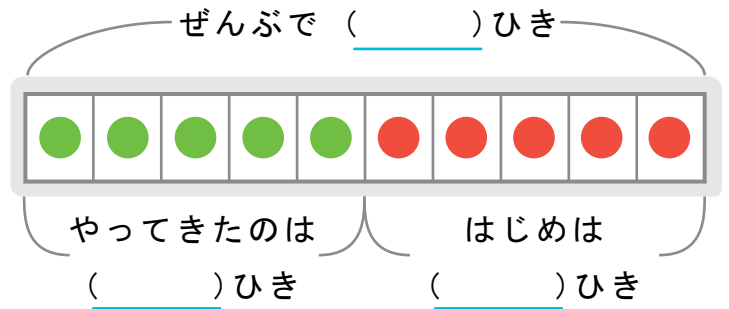
かくれた ^{かず}数はいくつ

しきをつかってこたえをもとめましょう。

また、()にすう字をかいてずをかんせいさせましょう。

- 1 虫が 5ひき いました。そこへ ほかの 虫が やってきて 10ひき になりました。なんびき やってききましたか。

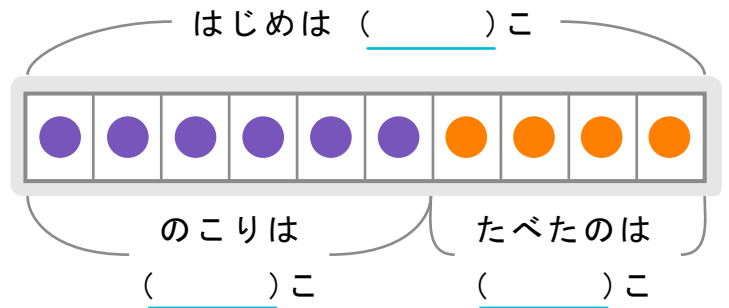
しき



こたえ

- 2 りんごが 10こ ありました。いくつ か たべて のこりが 6こ になりました。なんこ たべましたか。

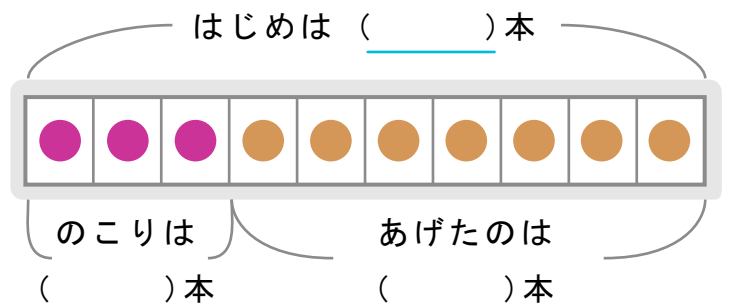
しき



こたえ

- 3 さる に バナナ を 7本 あげると バナナ が のこり 3本 になりました。はじめに なん本 ありましたか。

しき



こたえ