



1 たいじゅうが 4キロの  
ねこが 4ひきいると  
おもさはぜんぶで  
なんキロになりますか。



しき

こたえ

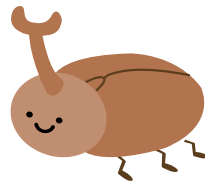
2 1だいのじてん車には  
タイヤが 2つあります。  
じてん車が 9だいだと  
タイヤはぜんぶでなんこ  
ありますか。



しき

こたえ

3 1ぴきのカブトムシには  
あしが 6本あります。  
カブトムシが 7ひきだと  
足はぜんぶでなん本  
ありますか。



しき

こたえ


4 1本のビンに 7リットル  
の水が入っています。  
ビンが 5本あると水は  
なんリットルになりますか。



しき

こたえ

5 まいにちふうせんを 5つずつ  
ふくらませます。5日かんで  
いくつのふうせんが  
できあがりますか。



しき

こたえ

6 1セット 4さつのノートが  
あります。これを 9セット  
かうとノートは  
ぜんぶでなんさつに  
なりますか。



しき

こたえ