


かけ算のけい算

文しょうもんだい

- 1 1さらに たこやき が
6こ のっています。
この おさら が 7まい だと
たこやき は ぜんぶ で なんこ ありますか。



しき

こたえ

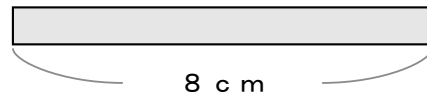
- 2 ズボン 1ちやく に ポケット が
4こ ついています。
この ズボン が 8ちやく だと
ポケット は ぜんぶ で なんこ ありますか。



しき

こたえ

- 3 1本 8cm の テープ が
3本 あると テープ の
ながさは ぜんぶ で
なんcm になりますか。



しき

こたえ


- 4 1つの ふくろ に おかし が
9こ 入っています。
この ふくろ が 4つ あると
おかし は ぜんぶ で なんこ ありますか。



しき

こたえ

- 5 あめ を 1人 に
7こ ずつ くばります。
6人 に くばる ため には
ぜんぶ で なんこ ひつよう ですか。



しき

こたえ

- 6 1本の ビン に 8リットル
の 水が 入っています。
ビンが 3本 あると 水は
なんリットル になりますか。



しき

こたえ