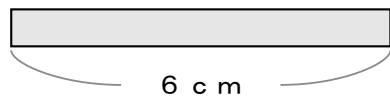


# かけ算のけい算

文しょうもんだい

- 1 1本 6 cm の テープ が  
9本 あると テープ の  
ながさは ぜんぶ で  
なん cm に なりますか。



しき

こたえ

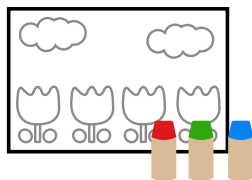
- 2 1本の ビン に 7リットル  
の 水が 入っています。  
ビンが 8本 あると 水は  
なんリットル に なりますか。



しき

こたえ


- 3 まいにち ぬりえ を 5まい  
やります。8日かん だと  
ぜんぶ で なんまい の  
ぬりえが かんせい しますか。



しき

こたえ


- 4 たいじゅう が 9キロ の  
ぶた が 3びき いると  
おもさは ぜんぶ で  
なんキロ に なりますか。



しき

こたえ

- 5 1つ に ふくろ の 中 に おかし が  
6こ 入っています。  
この ふくろ が 6つ あると  
おかし は ぜんぶ で なんこ ありますか。



しき

こたえ

- 6 ドーナツ を 1人に  
6こ ずつ くばります。  
7人 に くばる ため には  
ぜんぶ で ドーナツ は なんこ ひつよう ですか。



しき

こたえ