


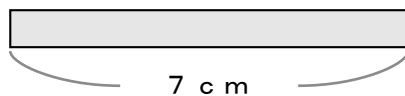
1 1本の ペットボトル に 水が
6リットル 入っています。
ペットボトルが 6本 があると
水は なんリットル になりますか。



しき

こたえ

2 1本 7cm の テープ が
4本 があると テープ の
ながさは ぜんぶ で
なんcm になりますか。



しき

こたえ


3 トラック 1だいに タイヤ が
5つ あります。
トラック が 7だいたと
タイヤ は ぜんぶ で なんこ ありますか。



しき

こたえ

4 プリン を 1人 に
6こ ずつ くばります。
7人 に くばる ためには
ぜんぶ で プリン は なんこ ひつよう ですか。



しき

こたえ


5 1つ の はこの 中におかし が
8こ 入っています。
この はこ が 8つ があると
おかし は ぜんぶ で なんこ ありますか。



しき

こたえ

6 たいじゅう が 7キロ の
たぬき が 9ひき いると
おもさは ぜんぶ で
なんキロ になりますか。



しき

こたえ