



1 チョコレートを 1人に 6まい
ずつ くばります。8人に
くばる ため には ぜんぶ で
なんまい ひつよう ですか。



しき

こたえ


2 3人が のれる バスが
あります。この バスが
7だい だと ぜんぶ で
バスに なん人 のれますか。



しき

こたえ


3 1まい の おさらの 上に
いちご が 7こ のっています。
この おさらが 7まい あると
いちご は ぜんぶ で なんこ ありますか。



しき

こたえ


4 まいにち だんご を 3つ ずつ
たべます。5日かん だと
ぜんぶ で なんこ の
だんご を たべますか。



しき

こたえ

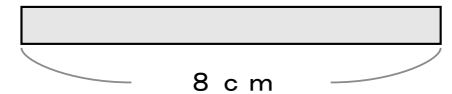
5 ライオン は 足 が
4本 あります。
ライオン が 6とう いると
足 は ぜんぶ で なん本 ありますか。



しき

こたえ

6 1本 8cm の テープ が
7本 あると テープ の
ながさ は ぜんぶ で
なんcm に なりますか。



しき

こたえ