

1 まいにち本を7さつずつよみます。4日かんだとぜんぶでなんさつの本がよめますか。



しき

こたえ

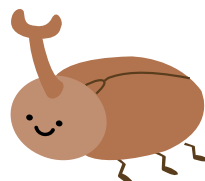
2 たいじゅうが8キロのコアラが4ひきいるとおもさはぜんぶでなんキロになりますか。



しき

こたえ

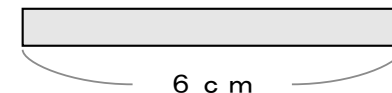
3 1ぴきのカブトムシにはあしが6本あります。カブトムシが7ひきだと足はぜんぶでなん本ありますか。



しき

こたえ


4 テープが9本あります。テープ1本のながさが6cmだとぜんぶでなんcmになりますか。



しき

こたえ

5 まいにちふうせんを7つずつふくらませます。7日かんでいくつのふうせんができてあがりますか。



しき

こたえ

6 おかしのはこが7はこあります。1つのはこの中に6つずつおかしが入っているとぜんぶでおかしはいくつありますか。



しき

こたえ