


1 だんご を 7日かん
たべつづけます。1日に
3本ずつ たべると ぜんぶ
で なん本の だんご を たべますか。



しき

こたえ

2 たこ は 足 が
8本 あります。
たこ が 7ひき いると
足 は ぜんぶ で なん本 ありますか。



しき

こたえ


3 1グループ 5人 の
チーム を つくります。
6チーム あると ぜんぶ で
なん人 に なりますか。



しき

こたえ


4 プリン を 1人 に
6こ ずつ くばります。
7人 に くばる ため には
ぜんぶ で プリン は なんこ ひつよう ですか。



しき

こたえ

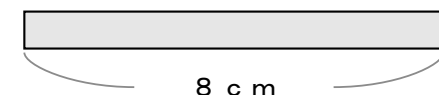
5 1だいに 4人 が のれる
バスが あります。
この バスが 8だいたと
ぜんぶ で バスに なん人 のれますか。



しき

こたえ

6 1本 8cm の テープ が
5本 あると テープ の
ながさは ぜんぶ で
なんcm に なりますか。



しき

こたえ