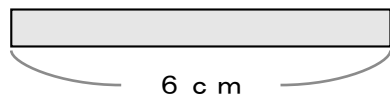


かけ算のけい算

文しょうもんだい

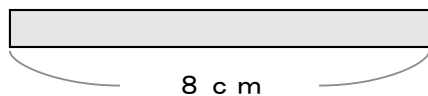
1 6 cm のテープが
9本 があると テープの
ながさは ぜんぶで
なん cm になりますか。



しき

こたえ

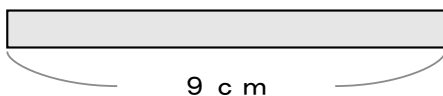
2 8 cm のテープが
4本 があると テープの
ながさは ぜんぶで
なん cm になりますか。



しき

こたえ

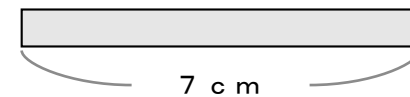
3 9 cm のテープが
3本 があると テープの
ながさは ぜんぶで
なん cm になりますか。



しき

こたえ

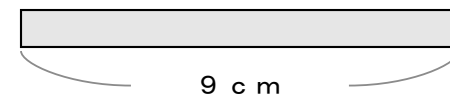
4 7 cm のテープが
6本 があると テープの
ながさは ぜんぶで
なん cm になりますか。



しき

こたえ

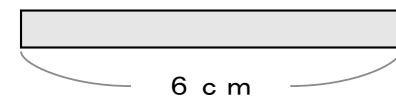
5 9 cm のテープが
5本 があると テープの
ながさは ぜんぶで
なん cm になりますか。



しき

こたえ

6 6 cm のテープが
4本 があると テープの
ながさは ぜんぶで
なん cm になりますか。



しき

こたえ