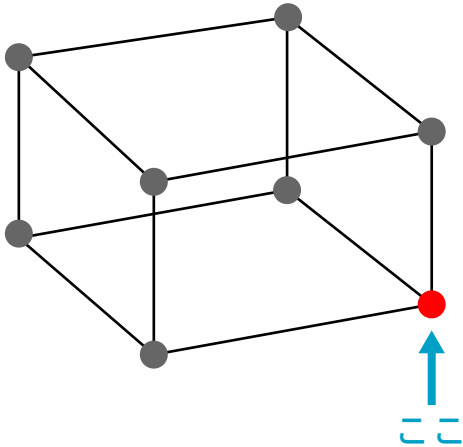


ストローと丸めたねん土ではこの形を作りました。



矢じるしの所の名前を答えましょう。

答え

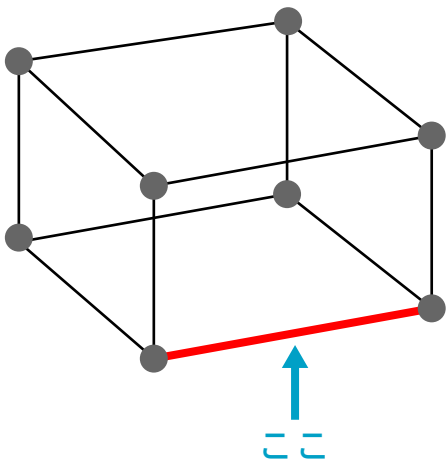
---

ちょう点の数はぜんぶでいくつありますか。

答え

---

1



矢じるしの所の名前を答えましょう。

答え

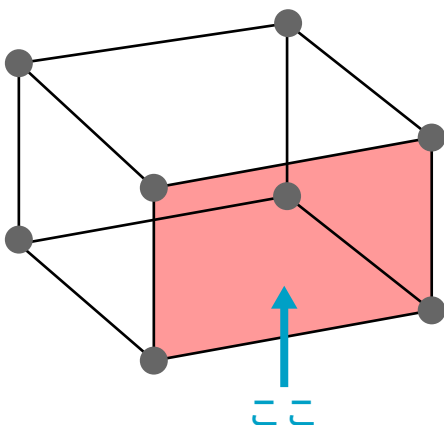
---

辺の数はぜんぶでいくつありますか。

答え

---

本



矢じるしの所の名前を答えましょう。

答え

---

面の数はぜんぶでいくつありますか。

答え

---

つ