



1 コンパスを使^{つか}って次の大きさの円を書きましょう。

半径 3 cm の円




直径 8 cm の円




2 コンパスを使^{つか}って次の長さの目盛^{めも}りを書き足しましょう。

3 cm ずつの目盛り



4 cm ずつの目盛り



6 cm ずつの目盛り

