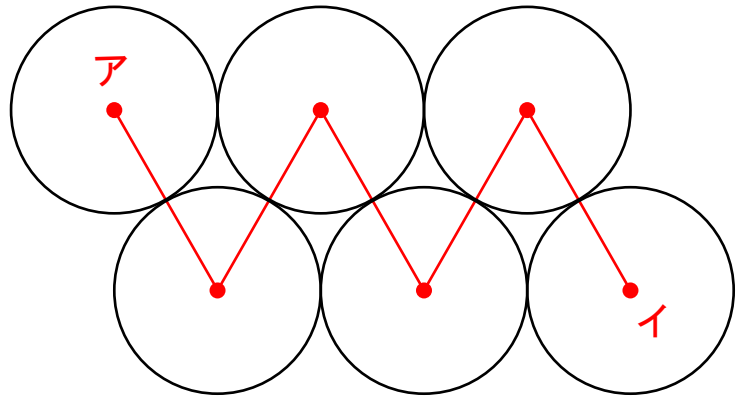
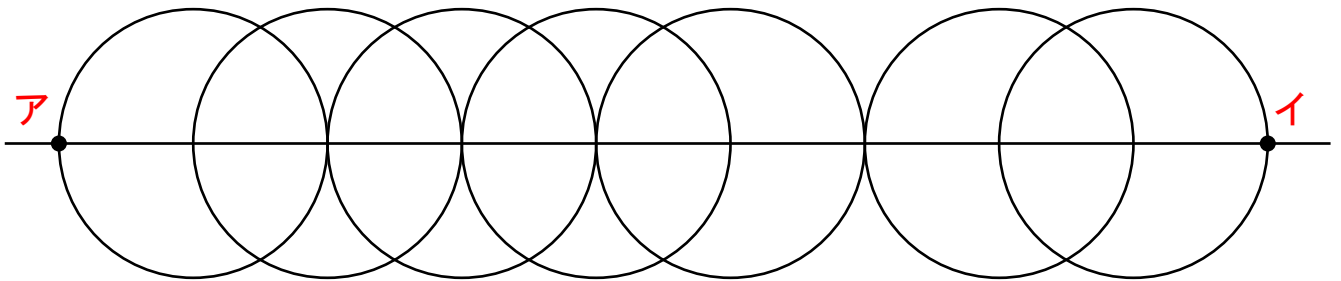


- 1 円1つの直径が6 cmの場合、  
「点ア～点イ」までの長さは  
何 cm になりますか？



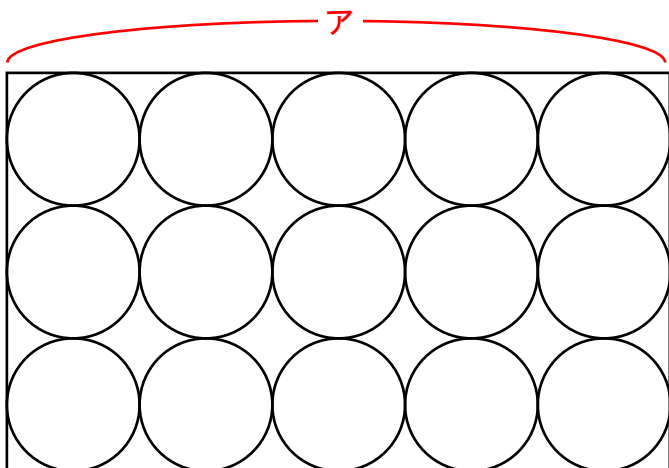
答え ( ) cm



- 2 ものさしとコンパスつかを使って上の図を書きました。  
1つの円の大きさは直径8 cmです。  
では、「点ア～点イ」までは何 cm でしょうか？

答え ( ) cm

- 3 箱はこの中にボールを15こ入れました。



球1つの大きさが半径3 cmの場合、  
アの長さは何 cm になりますか？

答え ( ) cm

アの長さが40 cmの場合、  
球1つの半径は何 cm になりますか？

答え 半径 ( ) cm