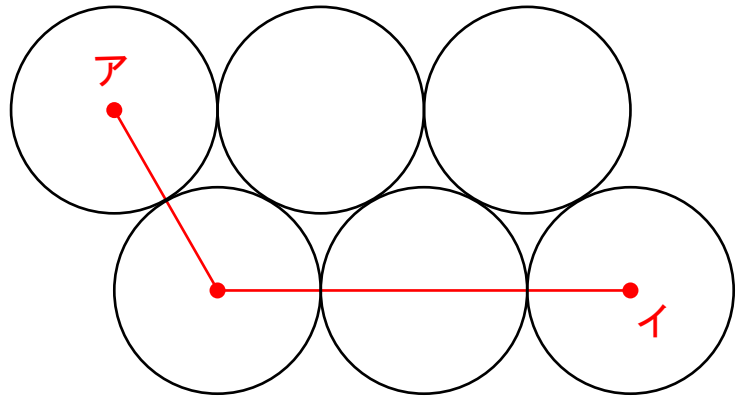
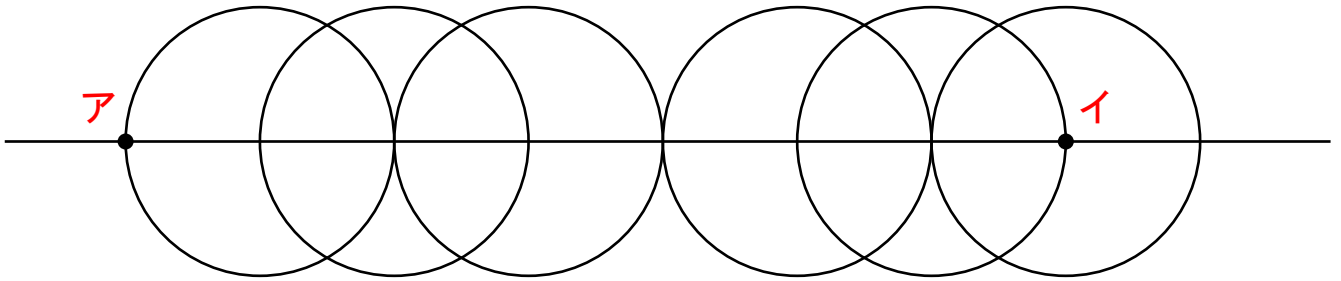


- 1 円1つの直径が8 cmの場合、
「点ア～点イ」までの長さは
何 cm になりますか？



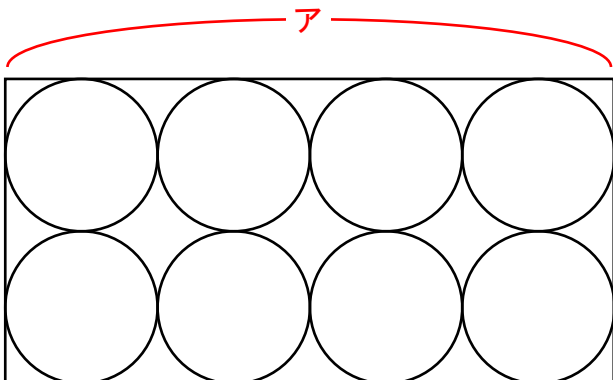
答え () cm



- 2 ものさしとコンパスつかを使って上の図を書きました。
1つの円の大きさは直径6 cmです。
では、「点ア～点イ」までは何 cm でしょうか？

答え () cm

- 3 箱はこの中にボールを8こ入れました。



球1つの大きさが半径5 cmの場合、
アの長さは何 cm になりますか？

答え () cm

アの長さが32 cmの場合、
球1つの半径は何 cm になりますか？

答え 半径 () cm